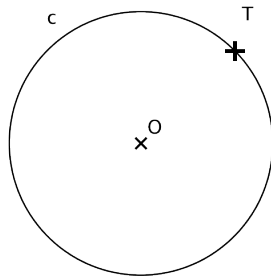


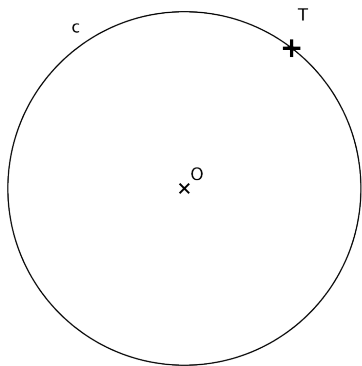
Trazar la circunferencia de radio 2.5 cm, tangente a la recta r en el punto T.



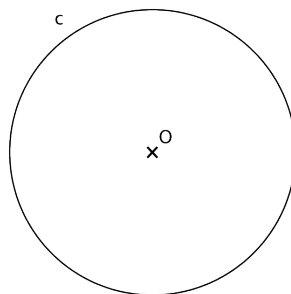
Dibujar una circunferencia de radio 2 cm tangente en T a la circunferencia dada.




Analizar las tangencias en esta imagen.



Dibujar una recta tangente a c en el punto T.



Trazar desde A las rectas tangentes a la circunferencia.



Analizar las tangencias en esta imagen.